


PROBLEMAS 1

Resuelve los siguientes problemas. No olvides poner la solución.

En un frutero hay 5 manzanas, 6 peras y 12 naranjas. ¿Cuántas frutas hay en total?




Solución:

Tenía 45 caramelos y regalé 12 a mis amigos. ¿Cuántos caramelos me quedan?




Solución:

Saqué de mi hucha 325 céntimos de euro para comprarme un juguete que me costó 150 céntimos de euro. ¿Cuántos céntimos de euro me sobraron?



Solución:

En una cuadra de caballos nacieron el lunes 18 caballos y el miércoles nacieron 24 caballos más. ¿Cuántos caballos nacieron en total?



Solución: