

PROBLEMAS 10


Resuelve los siguientes problemas. No olvides poner la solución.

De un grupo de 24 niños, 12 se han ido a jugar a la pelota y 10 se han ido a pasear. ¿Cuántos se han quedado sin jugar no pasear?




Solución:

Enrique tiene que leer un libro de 167 páginas. El primer día ha leído 25 y el segundo 58. ¿Cuántas páginas le faltan por leer?



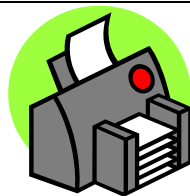
Solución:

Abel Antón corrió el primer día 35 kilómetros, el segundo 28 kilómetros y el tercero los mismos kilómetros que el primer día. ¿Cuántos kilómetros ha corrido en total?



Solución:


¿Cuánto cuesta todo?



Impresora 12 euros



Monitor 25 euros



Teclado 6 euros

Solución: